

WPISUJE UCZEŃ

KOD UCZNI

--	--	--



PESEL

--	--	--	--	--	--	--	--	--	--

PRÓBNY EGZAMIN GIMNAZJALNY Z OPERONEM CZĘŚĆ HUMANISTYCZNA

HISTORIA I WIEDZA O SPOŁECZEŃSTWIE

Instrukcja dla ucznia

1. Sprawdź, czy zestaw egzaminacyjny zawiera 12 stron (zadania 1.–25.). Ewentualny brak stron lub inne usterki zgłoś nauczycielowi.
2. Na tej stronie i na karcie odpowiedzi wpisz swój kod i PESEL.
3. Czytaj uważnie wszystkie teksty i zadania.
4. Rozwiązania zapisuj długopisem lub piórem z czarnym tuszem/atramentem. Nie używaj korektora.
5. Zaznaczając odpowiedzi w części karty przeznaczonej dla zdającego, zamaluj  pola do tego przeznaczone. Błędne zaznaczenie otocz kółkiem  i zaznacz właściwe.
6. Pamiętaj, że zapisy w brudnopisie nie będą sprawdzane i oceniane.

**GRUDZIEŃ
2014**

**Czas pracy:
60 minut**

**Liczba punktów
do uzyskania: 30**

Powodzenia!

Zadanie 1. (0–1)

Oceń, które z poniższych zdań dotyczących religii starożytnego Egiptu jest poprawne. Zaznacz P przy zdaniu prawdziwym.

1.	W starożytnym Egipcie panował monoteizm.	1P
2.	Egipcjanie wierzyli w życie pozagrobowe.	2P
3.	Najważniejszym bogiem w egipskim panteonie był Zeus.	3P

Ilustracja do zadania 2.



Zadanie 2. (0–1)

Dokończ poniższe zdanie, wybierając właściwą odpowiedź spośród podanych.

Przedstawiony na zdjęciu budynek został wzniesiony w stylu:

- A. gotyckim.
- B. klasycystycznym.
- C. renesansowym.
- D. romańskim.

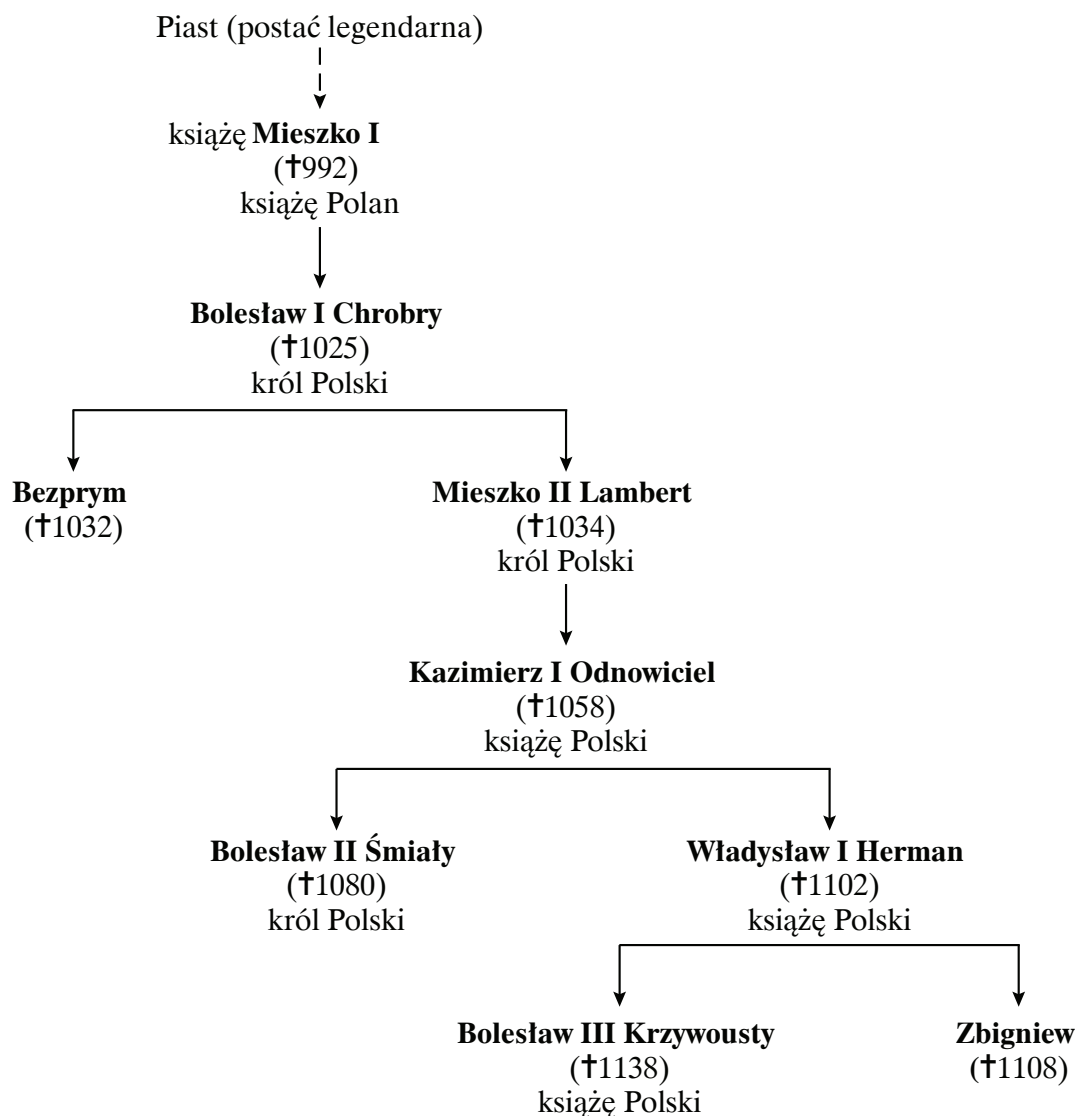
Zadanie 3. (0–2)

Wśród wymienionych niżej wydarzeń wskaż wydarzenie chronologicznie pierwsze i wydarzenie chronologicznie ostatnie. Zakreśl w tabeli litery, którymi oznaczono wskazane wydarzenia.

3.1.	wydarzenie chronologicznie pierwsze	A	B	C	D
3.2.	wydarzenie chronologicznie ostatnie	A	B	C	D

- A. rządy Ottona III
- B. upadek cesarstwa zachodniorzymskiego
- C. utworzenie Państwa Kościelnego
- D. koronacja cesarska Karola Wielkiego

Fragment drzewa genealogicznego Piastów do zadań 4. i 5.



Zadanie 4. (0–1)

Dokończ poniższe zdanie, wybierając właściwą odpowiedź spośród podanych.

Wnukiem Mieszka II i ojcem księcia Bolesława był:

- A. Bolesław Śmiały.
- B. Bolesław Krzywousty.
- C. Władysław Herman.
- D. Kazimierz Odnowiciel.

Zadanie 5. (0–1)

Dokończ poniższe zdanie, wybierając właściwą odpowiedź spośród podanych.

Władca, którego śmierć zapoczątkowała podział dzielnicowy kraju, zmarł w:

- A. I poł. XI w.
- B. II poł. XI w.
- C. I poł. XII w.
- D. II poł. XII w.

Zadanie 6. (0–1)

Dokończ poniższe zdanie, wybierając właściwą odpowiedź spośród podanych.

Wydarzenia uporządkowano chronologicznie w szeregu:

- A. bitwa pod Grunwaldem – I pokój toruński – hołd pruski – wojna trzynastoletnia.
- B. bitwa pod Grunwaldem – hołd pruski – wojna trzynastoletnia – I pokój toruński.
- C. wojna trzynastoletnia – bitwa pod Grunwaldem – I pokój toruński – hołd pruski.
- D. bitwa pod Grunwaldem – I pokój toruński – wojna trzynastoletnia – hołd pruski.

Tabela do zadań 7. i 8.

Miejscowość	Rok powstania	Opis
Bolonia	ok. 1085	najstarszy uniwersytet w Europie, ośrodek nauk prawnych
Paryż	ok. 1150	rozwinięta filozofia i teologia
Oksford	1167	najstarszy uniwersytet w Anglii, rozwinięte nauki prawne
Cambridge	1209	drugi uniwersytet angielski
Padwa	1222	jeden z najważniejszych uniwersytetów włoskich
Salamanka	ok. 1230	znany średniowieczny uniwersytet hiszpański
Praga	1348	najstarszy uniwersytet w Europie Środkowej
Kraków	1364	najstarszy uniwersytet w Polsce
Erfurt	ok. 1379	najstarszy uniwersytet w Niemczech
Uppsala	1477	najstarszy uniwersytet w Skandynawii

Na podstawie: *Tablice historyczne*, Warszawa 1996, s. 62.

Zadanie 7. (0–1)

Zapoznaj się z danymi w tabeli, a następnie oceń prawdziwość poniższych zdań. Zaznacz P, jeśli zdanie jest prawdziwe, lub F, jeśli zdanie jest fałszywe.

1.	Pierwszy uniwersytet w Europie Środkowej założono w XIII wieku.	P	F
2.	Najstarszy włoski uniwersytet był w średniowieczu ośrodkiem nauk prawnych.	P	F

Zadanie 8. (0–1)

Dokończ poniższe zdanie, wybierając właściwą odpowiedź spośród podanych.

W Szwecji:

- A. uniwersytet ulokowano w Erfurcie.
- B. pierwszy uniwersytet utworzono 392 lata po otwarciu najstarszej uczelni w Europie.
- C. uniwersytet utworzono w XIII w.
- D. powołano uczelnię, która słynęła w XII w. z filozofii i teologii.

Zadanie 9. (0–2)

Podanym w tabeli autorom przyporządkuj ich dzieła. Zakreśl w tabeli litery, którymi oznaczono wybrane dzieła.

9.1.	Mikołaj Kopernik	A	B	C	D
9.2.	Leonardo da Vinci	A	B	C	D

- A. *Dama z gronostajem*
- B. *Szkoła Ateńska*
- C. *Pochwała głupoty*
- D. *O obrotach sfer niebieskich*

Tekst do zadań 10. i 11.

Za pontyfikatu Pawła III rozpoczął się [...] sobór trydencki, niezwykle ważne wydarzenie w historii Kościoła katolickiego. Trwał on z licznymi przerwami lat osiemnaście (1545–1563), a wypadki wojenno-polityczne tych lat miały przemożny wpływ na jego przebieg. [...]

Sobór zakończył się za panowania Piusa IV. Uchwały soborowe przeciwstawiały się całkowicie tezom i dogmatom wszelkich kierunków reformacji i potępiały je surowo. Przeprowadzono reformy zmierzające do usunięcia nadużyć w Kościele, wzmocniono go poważnie pod względem organizacyjnym. Uznano, na razie de facto, nieomylność papieża w sprawach wiary. Powołano specjalną komisję do kontynuowania spisu ksiąg zakazanych. W 1564 roku Pius IV ogłosił trydenckie wyznanie wiary [...].

Sobór trydencki wzmógł nasilenie kontrreformacji. Europa wchodziła w epokę tzw. wojen religijnych, które w istocie były zjawiskiem złożonym, odzwierciedlającym sprzeczności ówczesnego świata. Nastąpił całkowity rozłam zachodniego chrześcijaństwa, jedno z najdonioślejszych wydarzeń w historii powszechnej.

Z. Wójcik, *Historia powszechna XVI–XVII wieku*, Warszawa 1991, s. 212.

Zadanie 10. (0–1)

Zapoznaj się z tekstem źródłowym, a następnie oceń prawdziwość poniższych zdań. Zaznacz P, jeśli zdanie jest prawdziwe, lub F, jeśli zdanie jest fałszywe.

1.	Sobór trydencki potwierdził konieczność zakazu publikowania tekstów i książek sprzecznych z oficjalną nauką Kościoła.	P	F
2.	Sobór zwołał papież Pius IV w 1545 roku.	P	F

Zadanie 11. (0–1)

Dokończ poniższe zdanie, wybierając właściwą odpowiedź spośród podanych.

Podczas soboru trydenckiego:

- A. złagodzono kontrreformację.
- B. stanowczo przeciwstawiono się reformacji.
- C. osłabiono Kościół.
- D. nie podjęto żadnych istotnych decyzji w kwestii wiary.

Tekst do zadania 12.

Szlachcic na zagrodzie równy wojewodzie – przysłowie rozpowszechnione w Polsce co najmniej od pierwszej połowy XVII w., będące wyrazem ustrojowej zasady równości wszystkich członków stanu szlacheckiego.

M. Wilamowski, K. Wnęk, L.A. Zyblikiewicz, *Leksykon polskich powiedzeń historycznych*, Kraków 1998, s. 148.

Zadanie 12. (0–1)

Dokończ poniższe zdanie, wybierając właściwą odpowiedź spośród podanych.

Powiedzenie „szlachcic na zagrodzie równy wojewodzie” oznaczało, że:

- A. każdy szlachcic mógł podważyć decyzje wojewody.
- B. wojewoda musiał konsultować podejmowane decyzje ze szlachtą na sejmie.
- C. każdy szlachcic miał takie same prawa.
- D. tylko szlachta posiadająca majątki miała równe prawa.

Zadanie 13. (0–2)

Wśród wymienionych niżej wydarzeń wskaż wydarzenie chronologicznie pierwsze i wydarzenie chronologicznie ostatnie. Zakreśl w tabeli litery, którymi oznaczono wybrane wydarzenia.

13.1.	wydarzenie chronologicznie pierwsze	A	B	C	D
13.2.	wydarzenie chronologicznie ostatnie	A	B	C	D

- A. potop szwedzki
- B. konfederacja warszawska
- C. wybuch powstania Chmielnickiego
- D. unia lubelska

Zadanie 14. (0–1)

Dokończ poniższe zdanie, wybierając właściwą odpowiedź spośród podanych.

Podczas swych rządów jakobini:

- A. dążyli do wprowadzenia trójpodziału władzy i demokracji.
- B. próbowali przywrócić monarchię we Francji.
- C. kierowali się zasadami zawartymi w Deklaracji Praw Człowieka i Obywatela.
- D. stosowali terror i prześladowali przeciwników politycznych.

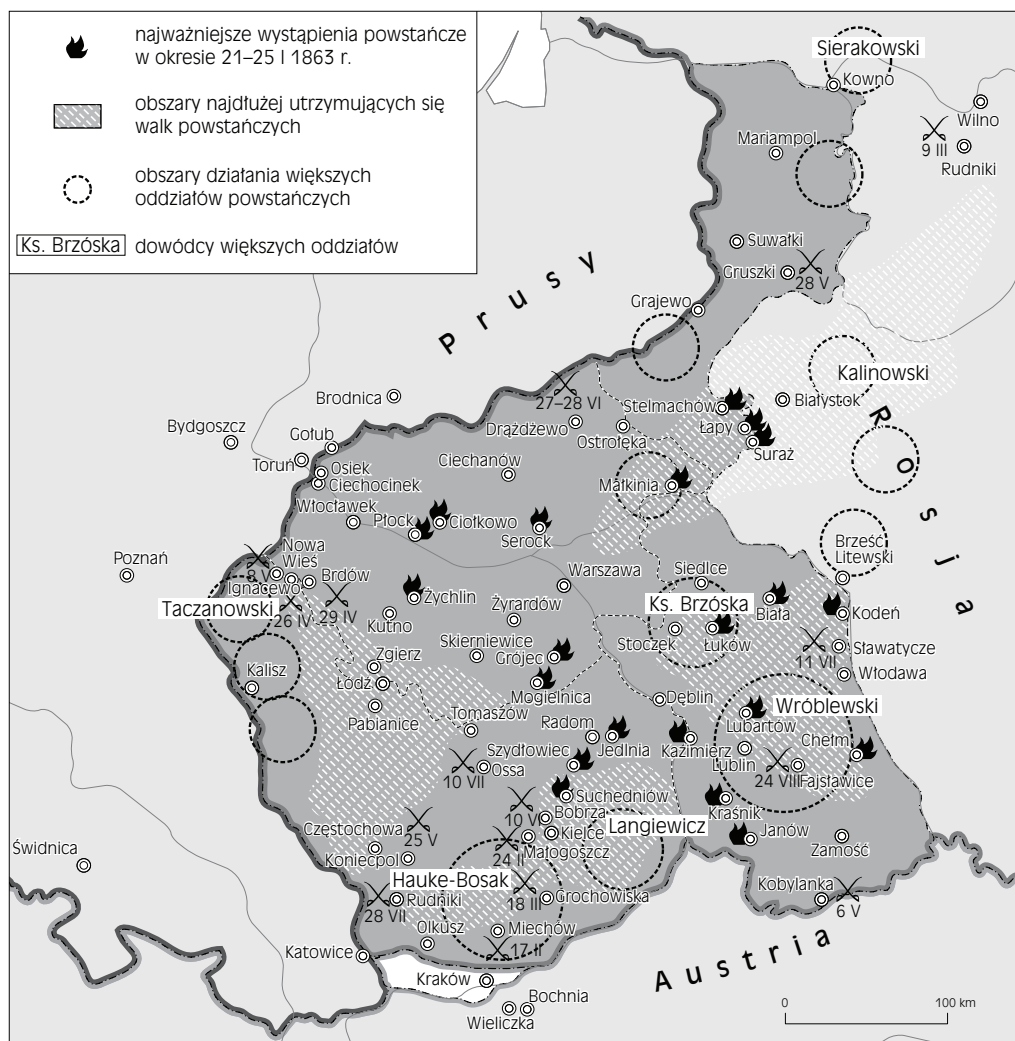
Zadanie 15. (0–1)

Dokończ poniższe zdanie, wybierając właściwą odpowiedź spośród podanych.

Legiony Polskie, które walczyły u boku Francuzów we Włoszech pod koniec XVIII w. zostały utworzone:

- A. na polecenie Stanisława Augusta Poniatowskiego.
- B. za zgodą Napoleona Bonaparte.
- C. na polecenie Tadeusza Kościuszki.
- D. za zgodą króla Francji Ludwika XVI.

Mapa do zadań 16. i 17.



Zadanie 16. (0–1)

Dokończ poniższe zdanie, wybierając właściwą odpowiedź spośród podanych.

Bezpośredni skutek powstania przedstawionego na mapie to:

- A. likwidacja Rzeczypospolitej Krakowskiej.
- B. włączenie ziem Królestwa Polskiego do Rosji.
- C. rozbiory Rzeczypospolitej.
- D. likwidacja konstytucji Królestwa Polskiego.

Zadanie 17. (0–1)

Dokończ poniższe zdanie, wybierając właściwą odpowiedź spośród podanych.

W rejonie Łukowa:

- A. walczyły oddziały pod dowództwem księdza Brzóska.
- B. nie doszło do większych walk.
- C. walczyły oddziały pod dowództwem Józefa Hauke-Bosaka.
- D. walczyły oddziały pod dowództwem Mariana Langiewicza.

Zadanie 18. (0–1)

Dokończ poniższe zdanie, wybierając właściwą odpowiedź spośród podanych.

Wynalazcą, który jako pierwszy opatentował w USA żarówkę, był:

- A. Piotr Curie.
- B. Ludwik Pasteur.
- C. Thomas Edison.
- D. James Watt.

Zadanie 19. (0–1)

Dokończ poniższe zdanie, wybierając właściwą odpowiedź spośród podanych.

Podczas pierwszej wojny światowej po raz pierwszy zastosowano na szeroką skalę:

- A. broń białą.
- B. gazy bojowe.
- C. broń palną.
- D. okręty wojenne.

Zadanie 20. (0–3)

Uzupełnij poniższy tekst. Wybierz właściwe odpowiedzi spośród podanych.

Zgodnie z konstytucją z 1997 roku, prezydent Rzeczypospolitej Polskiej wybierany jest na

20.1. _____ kadencję. Może nim zostać osoba, która w dniu wyborów skończyła

20.2. _____ lat. Prezydent może być wybrany maksymalnie na 20.3. _____ kadencje.

- | | | | |
|-------|-----------------|-----------------|------------------|
| 20.1. | A. czteroletnią | B. pięcioletnią | C. siedmioletnią |
| 20.2. | A. 18 | B. 21 | C. 35 |
| 20.3. | A. jedną | B. dwie | C. trzy |

Ilustracja do zadania 21.

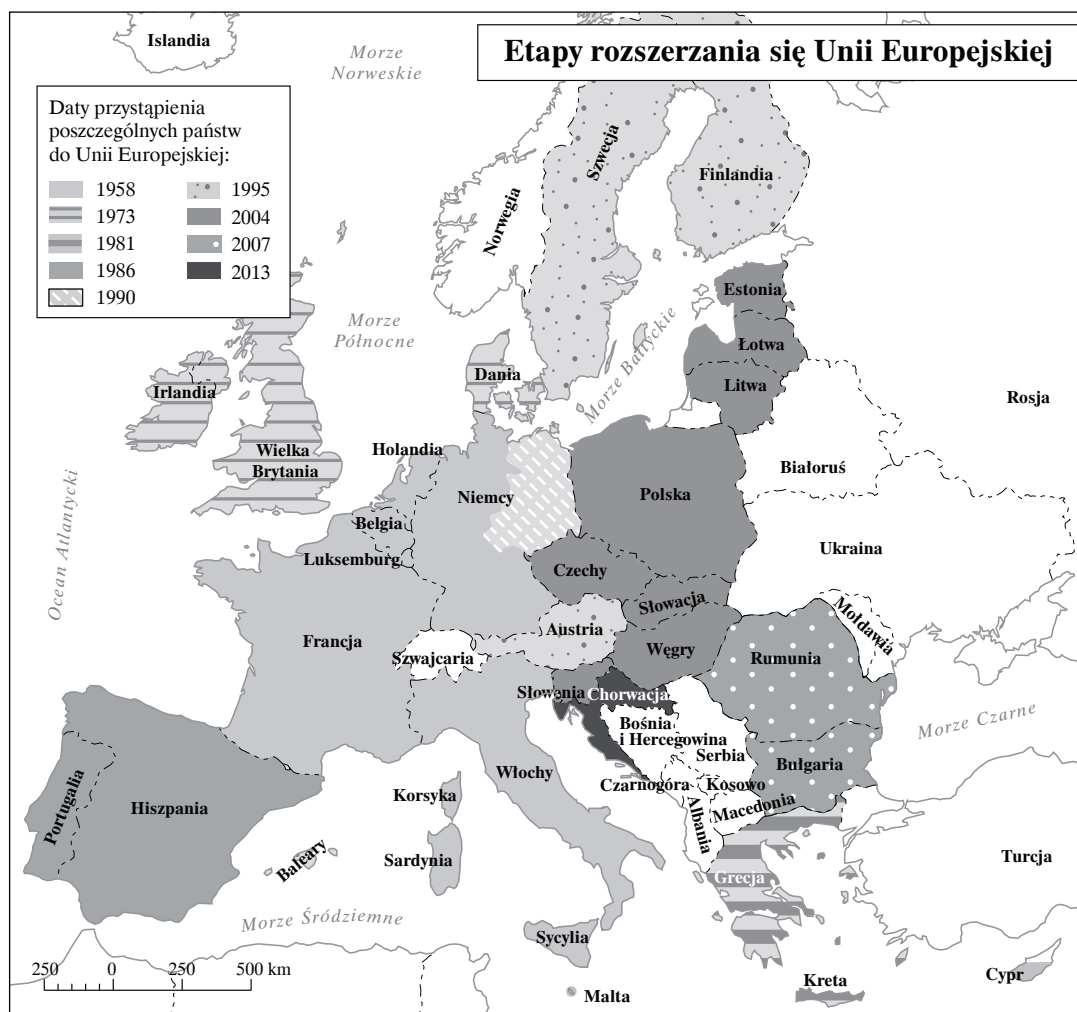


Zadanie 21. (0–1)

Zapoznaj się z ilustracją, a następnie oceń prawdziwość poniższych zdań. Zaznacz P, jeśli zdanie jest prawdziwe, lub F, jeśli zdanie jest fałszywe.

1.	Zamieszczona ilustracja namawia do udziału w wyborach.	P	F
2.	Organizatorzy tej kampanii społecznej są przeciwnikami demokracji.	P	F

Mapa do zadań 22.



Zadanie 22. (0–1)

Dokończ poniższe zdanie, wybierając właściwą odpowiedź spośród podanych.

W 2013 roku Unia Europejska została rozszerzona o:

- A. Malte.
- B. Bułgarię i Rumunię.
- C. Słowenię.
- D. Chorwację.

Tekst do zadania 23.

Zgodnie z polityką Sojuszu Północnoatlantyckiego państwa członkowskie kolektywnie odpowiadają za zapewnienie integralności przestrzeni powietrznej NATO. W tym celu prowadzona jest jej stała kontrola (Air Policing). [...]

Do chwili przystąpienia w 2004 r. do NATO Litwy, Łotwy, Estonii, oraz Słowenii jedynie Islandia oraz Luksemburg nie posiadały własnych sił powietrznych. W przypadku Islandii misję Air Policing wykonywały dotychczas Stany Zjednoczone. Natomiast przestrzeń powietrzną Luksemburga patrolują Belgowie. Wiosną 2004 roku państwa bałtyckie (Litwa, Łotwa, Estonia) zwróciły się we wspólnym oświadczeniu do Sojuszu, z prośbą o ochronę ich przestrzeni powietrznej, począwszy od pierwszego dnia członkostwa [...]

W misji nadzoru przestrzeni powietrznej państw bałtyckich po raz kolejny udział weźmie Polski Kontyngent Wojskowy ORLIK 5. Będzie liczył do 100 żołnierzy i pracowników wojska, wyposażonych w 4 samoloty MIG-29 wraz z niezbędnym uzbrojeniem i sprzętem. Misja będzie trwała od 1 maja do 31 sierpnia 2014 r. [...]

Głównym celem misji jest patrolowanie i niedopuszczenie do naruszenia przestrzeni powietrznej Republiki Estońskiej, Republiki Litewskiej i Republiki Łotewskiej oraz udzielanie pomocy samolotom wojskowym i cywilnym w sytuacjach awaryjnych występujących podczas lotu.

www.airpolicing.wp.mil.pl

Zadanie 23. (0–1)

Dokończ poniższe zdanie, wybierając właściwą odpowiedź spośród podanych.

Polscy piloci w ramach misji wojskowej ORLIK 5 patrolowali przestrzeń powietrzną:

- A. Islandii i Luksemburga.
- B. Belgii.
- C. Litwy, Łotwy i Estonii.
- D. Słowenii.

Tabela do zadania 24.

Podstawa obliczenia podatku w złotych		Podatek wynosi
ponad	do	
–	85 528	18% minus kwota zmniejszająca podatek 556 zł 02 gr
85 528	–	14 839 zł 02 gr + 32% nadwyżki ponad 85 528 zł

Zadanie 24. (0–1)

Dokończ poniższe zdanie, wybierając właściwą odpowiedź spośród podanych.

Podatnik, dla którego podstawą obliczenia podatku jest kwota 85 tys. złotych:

- A. zapłaci 32% podatku.
- B. zapłaci 18% podatku minus 556,02 zł.
- C. zapłaci 556,02 zł podatku.
- D. zapłaci 14 839,02 zł podatku.

Ilustracja do zadania 25.



GIEŁDA PAPIERÓW
WARTOŚCIOWYCH
w Warszawie

Zadanie 25. (0–1)

Oceń prawdziwość poniższych zdań. Zaznacz P, jeśli zdanie jest prawdziwe, lub F, jeśli zdanie jest fałszywe.

1.	Instytucja, której logo zamieszczono powyżej, umożliwia kupno i sprzedaż spółek notowanych na giełdzie.	P	F
2.	Instytucja, której logo zamieszczono powyżej, zajmuje się drukiem pieniędzy oraz dokumentów (dowodów osobistych, paszportów).	P	F