

UZUPEŁNIA ZDAJĄCY

KOD

| | | |
|--|--|--|
| | | |
|--|--|--|

PESEL

| | | | | | | | | | | |
|--|--|--|--|--|--|--|--|--|--|--|
| | | | | | | | | | | |
|--|--|--|--|--|--|--|--|--|--|--|

*miejsce
na naklejkę*

**EGZAMIN MATURALNY
Z MATEMATYKI
POZIOM ROZSZERZONY**

DATA: **2 czerwca 2017 r.**

GODZINA ROZPOCZĘCIA: **14:00**

CZAS PRACY: **180 minut**

LICZBA PUNKTÓW DO UZYSKANIA: **50**

**UZUPEŁNIA ZESPÓŁ
NADZORUJĄCY**

Uprawnienia zdającego do:

- dostosowania kryteriów oceniania
- nieprzenoszenia zaznaczeń na kartę

Instrukcja dla zdającego

1. Sprawdź, czy arkusz egzaminacyjny zawiera 18 stron (zadania 1–15). Ewentualny brak zgłoś przewodniczącemu zespołu nadzorującego egzamin.
2. Rozwiązania zadań i odpowiedzi wpisuj w miejscu na to przeznaczonym.
3. Odpowiedzi do zadań zamkniętych (1–5) zaznacz na karcie odpowiedzi w części karty przeznaczonej dla zdającego. Zamaluj pola do tego przeznaczone. Błędne zaznaczenie otocz kółkiem i zaznacz właściwe.
4. W zadaniu 6. wpisz odpowiednie cyfry w kratki pod treścią zadania.
5. Pamiętaj, że pominięcie argumentacji lub istotnych obliczeń w rozwiązaniu zadania otwartego (7–15) może spowodować, że za to rozwiązanie nie otrzymasz pełnej liczby punktów.
6. Pisz czytelnie i używaj tylko długopisu lub pióra z czarnym tuszem lub atramentem.
7. Nie używaj korektora, a błędne zapisy wyraźnie przekreśl.
8. Pamiętaj, że zapisy w brudnopisie nie będą oceniane.
9. Możesz korzystać z zestawu wzorów matematycznych, cyrkla i linijki oraz kalkulatora prostego.
10. Na tej stronie oraz na karcie odpowiedzi wpisz swój numer PESEL i przyklej naklejkę z kodem.
11. Nie wpisuj żadnych znaków w części przeznaczonej dla egzaminatora.



MMA-R1_1P-173

NOWA FORMUŁA

W zadaniach od 1. do 5. wybierz i zaznacz na karcie odpowiedzi poprawną odpowiedź.

Zadanie 1. (0–1)

Równanie $\|x - 4| - 2| = 2$ ma dokładnie

- A. dwa rozwiązania rzeczywiste.
- B. jedno rozwiązanie rzeczywiste.
- C. cztery rozwiązania rzeczywiste.
- D. trzy rozwiązania rzeczywiste.

Zadanie 2. (0–1)

Liczba $\log_4 25 + \log_2 10$ jest równa

- A. $\log_2 15$ B. $\log_2 50$ C. $\log_2 210$ D. $\log_2 635$

Zadanie 3. (0–1)

Punkt $P' = (3, -3)$ jest obrazem punktu $P = (1, 3)$ w jednokładności o środku w punkcie $S = (-2, 12)$. Skala tej jednokładności jest równa

- A. $\frac{3}{5}$ B. $\frac{5}{3}$ C. 2 D. 3

Zadanie 4. (0–1)

Funkcja f jest określona wzorem $f(x) = \frac{x}{2x-8}$ dla każdej liczby rzeczywistej $x \neq 4$.

Wówczas pochodna tej funkcji dla argumentu $x = \sqrt{2} + 4$ jest równa


- A. $-\frac{1}{6}$ B. $\frac{\sqrt{2}+2}{\sqrt{2}}$ C. -1 D. $2\sqrt{2}$

Zadanie 5. (0–1)

Dany jest nieskończony ciąg geometryczny, w którym iloraz jest trzy razy większy od pierwszego wyrazu, a suma wszystkich wyrazów tego ciągu jest równa $\frac{1}{4}$. Pierwszy wyraz tego ciągu jest równy

- A. $\frac{3}{7}$ B. $\frac{1}{7}$ C. $\frac{7}{3}$ D. 7


BRUDNOPIS (*nie podlega ocenie*)



Zadanie 7. (0–3)

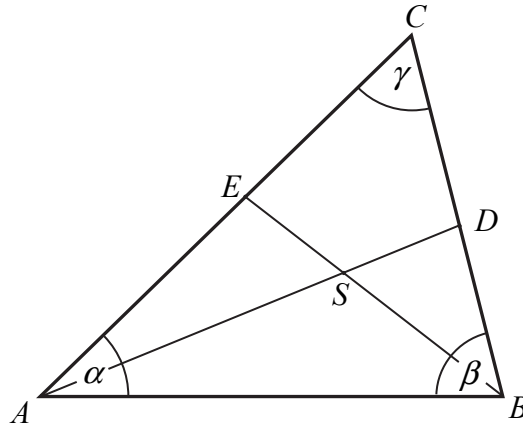
Udowodnij, że dla każdej liczby rzeczywistej x i dla każdej liczby rzeczywistej y prawdziwa jest nierówność

$$5x^2 + y^2 - 4xy + 6x + 9 \geq 0.$$




Zadanie 8. (0–3)

Miary kątów trójkąta ABC są równe $\alpha = |\sphericalangle BAC|$, $\beta = |\sphericalangle ABC|$ i $\gamma = |\sphericalangle ACB|$. Punkt S jest środkiem okręgu wpisanego w ten trójkąt, a proste zawierające odcinki AS i BS przecinają boki BC i AC tego trójkąta w punktach odpowiednio D i E (zobacz rysunek).




Wykaż, że jeżeli $\alpha + \beta = 2\gamma$, to na czworokącie $DCES$ można opisać okrąg.



Zadanie 9. (0–4)


Z cyfr 0, 1, 2 tworzymy pięciocyfrowe liczby całkowite dodatnie podzielne przez 15. Oblicz, ile możemy utworzyć takich liczb.



Odpowiedź:

Zadanie 10. (0–5)


Ciąg (a_n) jest arytmetyczny, a ciąg (b_n) jest geometryczny. Pierwszy wyraz a_1 ciągu arytmetycznego jest ilorazem ciągu geometrycznego (b_n) . Wyrazy ciągu (a_n) są liczbami całkowitymi, a suma ośmiu początkowych wyrazów tego ciągu jest równa 124. Natomiast pierwszy wyraz b_1 ciągu geometrycznego jest różnicą ciągu arytmetycznego (a_n) . Suma dwóch pierwszych wyrazów ciągu geometrycznego (b_n) jest równa 18. Wyznacz te ciągi.



Odpowiedź:

Zadanie 11. (0–4)


Rozwiąż równanie $3 \sin\left(x - \frac{\pi}{4}\right) + \cos\left(x + \frac{\pi}{4}\right) = 1$ w przedziale $\langle 0, 2\pi \rangle$.




Odpowiedź:

Zadanie 12. (0–5)

Prosta l , na której leży punkt $P=(8, 2)$, tworzy z dodatnimi półosiąmi układu współrzędnych trójkąt prostokątny o polu równym 36. Wyznacz równanie prostej l .







Odpowiedź:

Zadanie 13. (0–6)

Wyznacz wszystkie wartości parametru m , dla których równanie $x^2 - 3mx + 2m^2 + 1 = 0$ ma dwa różne rozwiązania takie, że każde należy do przedziału $(-\infty, 3)$.







Odpowiedź:

Zadanie 14. (0–6)

Trapez równoramienny $ABCD$ o ramieniu długości 6 wpisany jest w okrąg, przy czym dłuższa podstawa AB trapezu, o długości 12, jest średnicą tego okręgu. Przekątne AC i BD trapezu przecinają się w punkcie P . Oblicz pole koła wpisanego w trójkąt ABP .







Odpowiedź:

Zadanie 15. (0–7)

Rozpatrujemy wszystkie prostopadłościany o objętości 8, których stosunek długości dwóch krawędzi wychodzących z tego samego wierzchołka jest równy 1:2 oraz suma długości wszystkich dwunastu krawędzi jest mniejsza od 28. Wyznacz pole powierzchni całkowitej prostopadłościanu jako funkcję długości jednej z jego krawędzi. Wyznacz dziedzinę tej funkcji. Oblicz wymiary tego spośród rozpatrywanych prostopadłościanów, którego pole powierzchni całkowitej jest najmniejsze.





Odpowiedź:

BRUDNOPIS (*nie podlega ocenie*)